

PROF: COMAN MARIANA
C.N "FERDINANDI" BACĂU

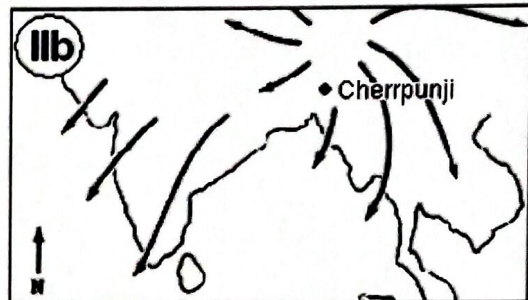
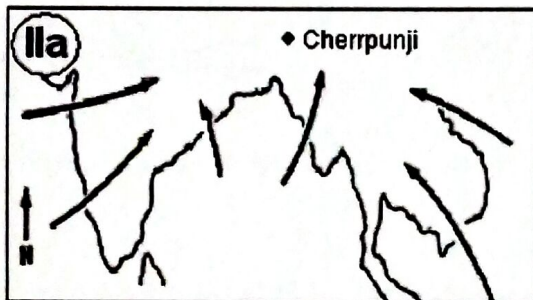
Numele și prenumele.....

Data.....

FISĂ DE LUCRU

~~12273~~ Geografia fizică generală, clasa a IX a, sem II


- I. Analizați harta de mai jos și specificați: tipul de climă, vânturile periodice dominante, temperatura medie anuală, precipitațiile medii anuale, regionarea geografică (continent/ocean), două exemple de fluvii din regiune. 20 puncte



- II. Desenul de mai jos redă schematic creșterea temperaturii aerului dinspre spațiul rural și suburban spre spațiul urban central.

Explicați diferența de temperatură din desenul de mai jos, precizând trei factori favorizanți.

10 puncte

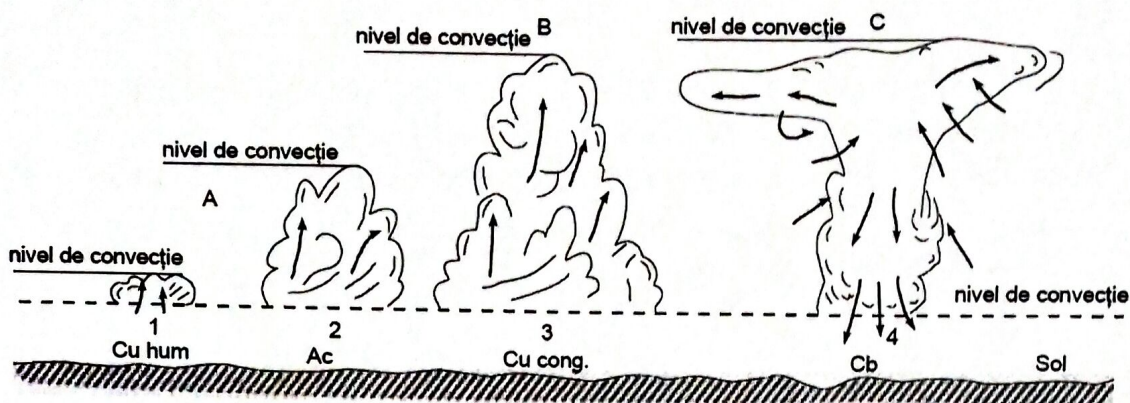


- III. Descrieți mările: (16 puncte)

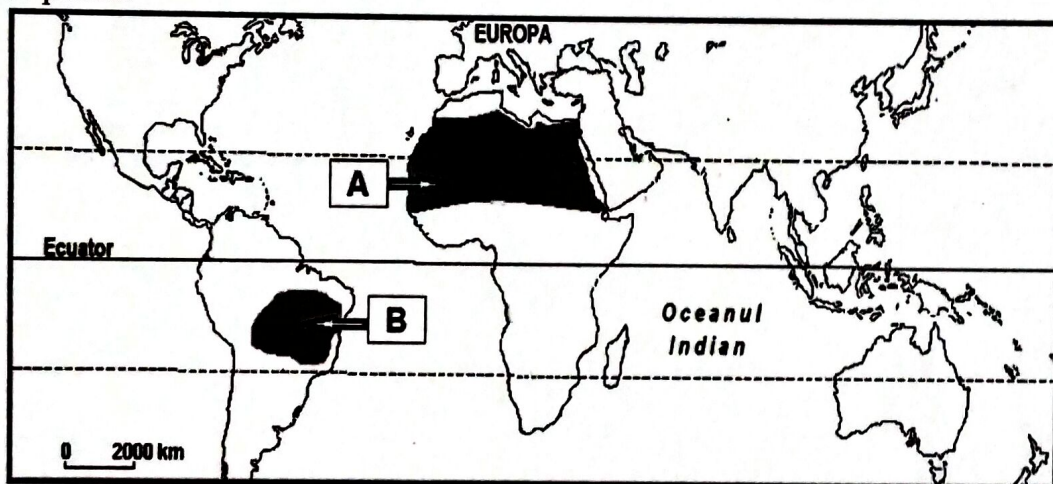
.....
.....
.....
.....
.....

IV. Analizați și interpretați schema de mai jos:

20 puncte

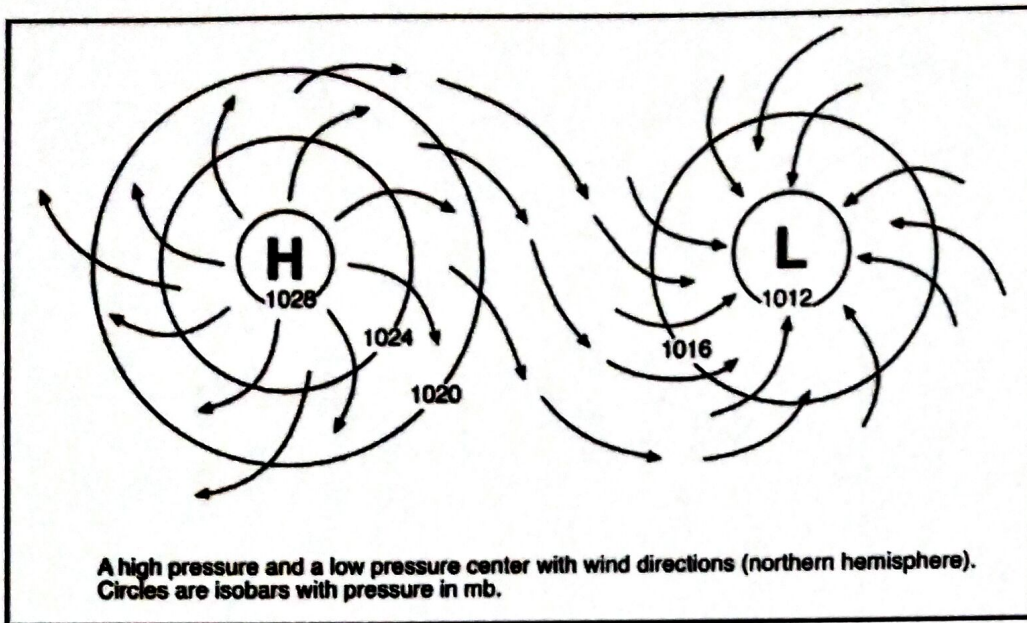


V. Caracterizați clima din regiunile geografice marcate, pe harta de mai jos, cu literele A și B.
14 puncte



VI. Identificați pe harta de mai jos:

10 puncte



**Mișcările aerului în plan orizontal
în Anticloni și Cicloni**